

تم تحميل وعرض المادة من :



موقع واجباتي
www.wajibati.net

موقع واجباتي منصة تعليمية تساهم بنشر حل المناهج الدراسية بشكل متميز لترتقي بمجال التعليم على الإنترنت ويستطيع الطلاب تصفح حلول الكتب مباشرة لجميع المراحل التعليمية المختلفة

الفصل ٤ الأعداد حتى ١٠

أَسْتَكْشِفُ

كَمْ بَيْضَةً أَرَاهَا فِي الصُّورَةِ؟

ستة

المُفْرَدَاتُ

٦

التَّرْتِيبُ

العَدَدُ التَّرْتِيبِيُّ

نشاط

عدّ أنواع الملابس المختلفة في خزانتك،
واكتب اسمًا لكل قطعة منها، ثم اطلب
إلى طفلك أن يكتب عددها.

أسرتي العزيزة






أبدأ اليوم دراسة الفصل الرابع، وأتعلم فيه عد الأعداد حتى
١٠ وقراءتها وكتابتها، والمقارنة بينها وترتيبها، وهذا نشاط
يمكن أن ننقذه معًا.

مع وافر الحب، ابنكم / ابنتكم



التهيئة



للمعلم:

- ١- يصل الطالب بخطوط بين الأشياء المتقابلة.
- ٢- يلون الطالب ٥ ورقات بالأخضر.
- ٣- يحوط الطالب المجموعة التي تحوي ٤ وردات.
- ٤- يعدّ الطالب الأشياء في كل مجموعة، ويكتب عددها، ثم يحوط المجموعة الأكثر.



الأعداد ٦، ٧، ٨

٤-١



فكرة الدرس

أعد الأعداد ٦، ٧، ٨ وأسميها،
وأميزها باستعمال
أشياء ملموسة
ورسوم توضيحية

المفردات

ستة
سبعة
ثمانية

٨
ثمانية

٧
سبعة

٦
ستة

ستة



سبعة



ثمانية



للمعلم :

٣-١ يُعد الطالب الأشياء، وينطق العدد، ثم يستعمل قطع العد الملونة ليمثل العدد نفسه.





ستة



سبعة



ثمانية



خمسة

نشاط منزلي

خُذْ طفلك معك وَحَدِّدْ (٦، ٧، ٨) أشياء مثل : بيوت ، أشجار ،... ثم اطلب إليه أن يعدها.



٦-٤ للمعلم : يعد الطالب الأشياء في كل مجموعة ، وينطق العدد، ثم يلون مُربعات حسب عددها.

٧- يعدُّ الطالب الأطباق، وينطق العدد، ثم يكمل الرسم ليكون عدد الأطباق ٨.

قراءة الأعداد ٦، ٧، ٨، وكتابتها



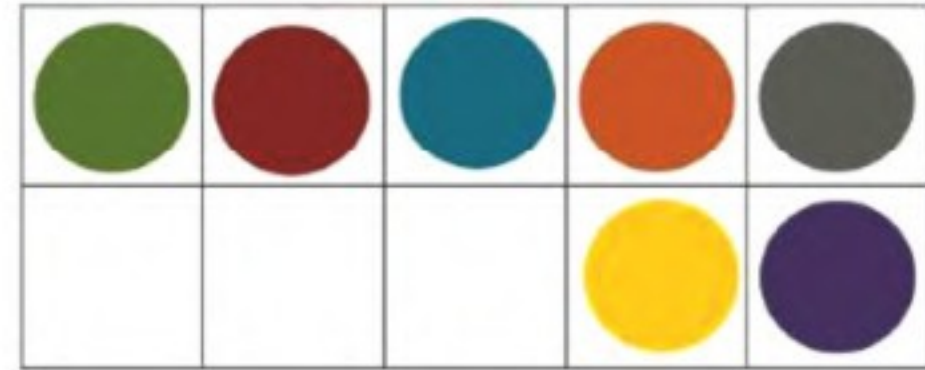
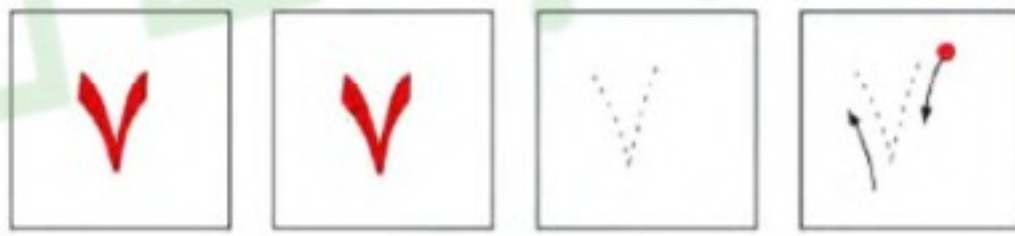

٢-٤



www.len.edu.sa

فكرة الدرس


أقرأ الأعداد ٦، ٧، ٨
وأكتبها



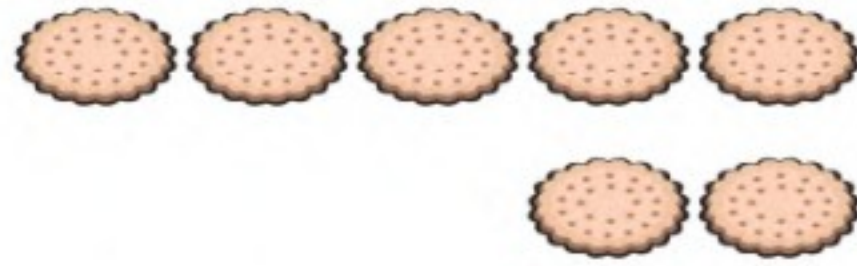
للمعلم :

- ١- يرسم الطالب ٦ كرات ملونة داخل المربعات، وينطق العدد، ثم يمرر قلمه على العدد المنقط ويكتبه.
- ٢- يرسم الطالب ٧ كرات ملونة داخل المربعات، وينطق العدد، ثم يمرر قلمه على العدد المنقط ويكتبه.
- ٣- يرسم الطالب ٨ كرات ملونة داخل المربعات، وينطق العدد، ثم يمرر قلمه على العدد المنقط ويكتبه.





سبعة



ثمانية



ستة



ثمانية



نشاط منزلي

أحضِر ست بطاقات، ثم اطلب إلى طفلك أن يرسم على إحداها ٦ نقاط، وعلى الأخرى ٧ نقاط وعلى الثالثة ٨ نقاط، ثم اجعله يكتب على البطاقات الثلاث المتبقية الأعداد: ٦، ٧، ٨. العب مع طفلك لعبة التذكُّر، بحيث تقلب البطاقات جميعها، ويحاول أن يجمع كل بطاقتين تعبران عن العدد نفسه.



للمعلم :

٧ - ٤ يُعدّ الطالب الأشياء من النوع نفسه وينطق العدد، ثم يستعمل قطع العد لتوضيح عددها. ويكتب الطالب العدد في المكان المخصص.

وزارة التعليم

الدرس ٢ : قراءة الأعداد ٦ ، ٧ ، ٨ ، وكتابتها

2022 - 1444



العددان ٩، ١٠

٣-٤

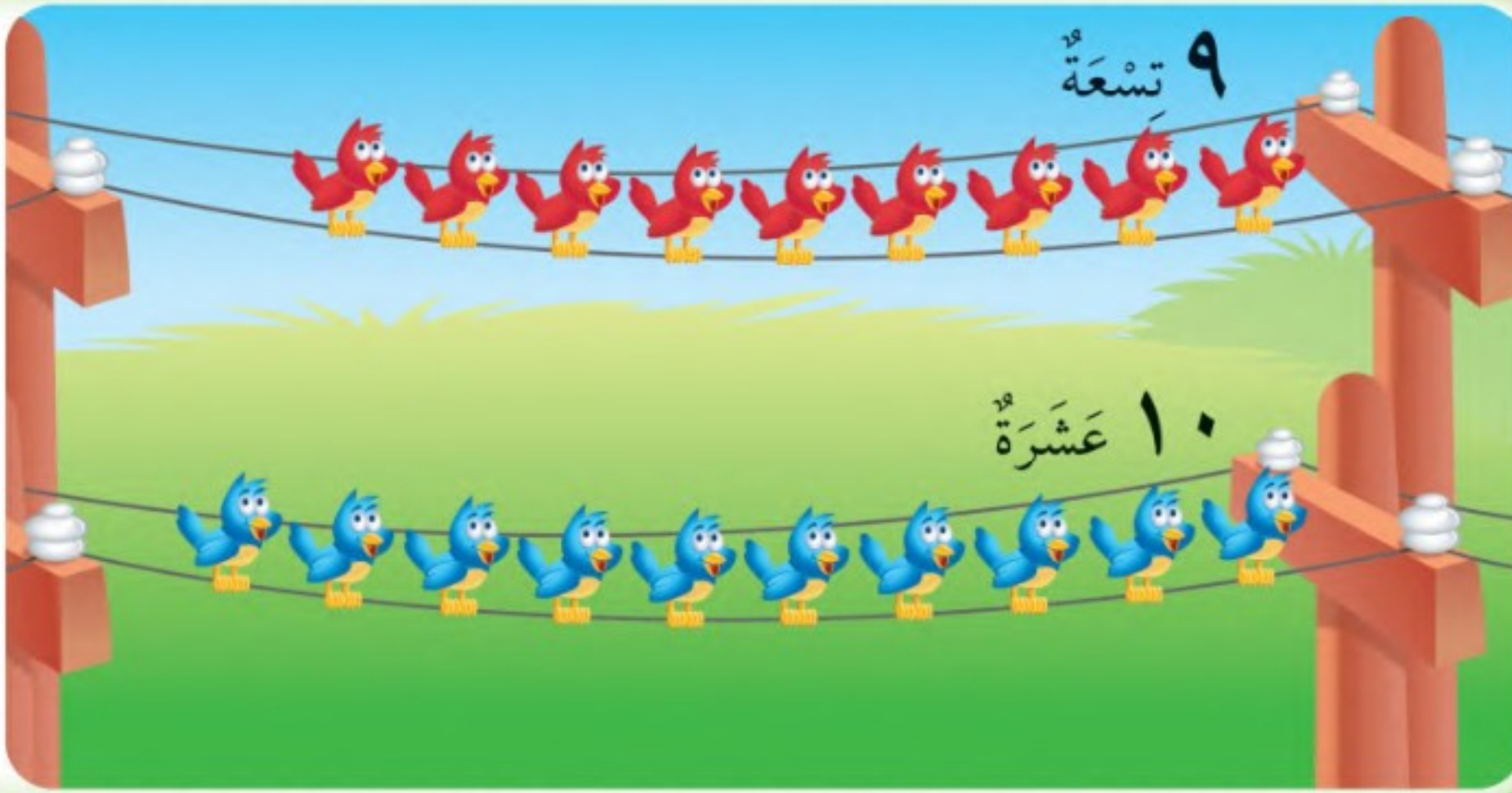
فكرة الدرس

أعدّ العددين ٩، ١٠
وأسميهم، وأميّزهما
باستعمال أشياء
ملموسة ورسوم
توضيحية.

المفردات

تسعة

عشرة



تسعة



عشرة



عشرة



تسعة



للمعلم :


٢-١ يعدّ الطالب الأشياء في كل صفّ، وينطق عددها، ثم يحوط المجموعة التي عدّد عناصرها ٩ باللون الأحمر، والمجموعة التي عدد عناصرها ١٠ باللون الأزرق.



عشرة



تسعة



تسعة




عشرة



أربعة




تسعة



ستة



عشرة



نشاط منزلي

مستعملاً ورقتين بلونين مختلفين، قصّ كلاً منهما إلى ١٢ قطعة، ثمّ اطلب إلى طفلك أن يعدّ ٩ قطع من أحد اللونين، ثمّ قطع من اللون الآخر.



يعدّ الطالب الأشياء في كل مجموعة، وينطق عددها، ثم يحوط المجموعة التي عدد عناصرها ٩ باللون الأحمر، والمجموعة التي عدد عناصرها ١٠ باللون الأزرق.

يعدّ الطالب الأشجار، ثم ينطق عددها، ثم يكمل الرسم ليكون عدد الأشجار ٩.

يعدّ الطالب المظلات، ثم ينطق عددها، ثم يكمل الرسم ليكون عدد المظلات ١٠.

للمعلم :

٥-٣

-٦

-٧

وزارة التعليم

الدرس ٣ : العددين ٩ و ١٠
2022 - 1444

قراءة العددين ٩، ١٠، وكتابتها

٤-٤



www.len.edu.sa

١٠ عَشْرَةٌ

٩ تِسْعَةٌ

فكرةُ الدرس

أقرأ العددين ٩، ١٠
وأكتبهما.

٩

٩

٩

٩

تسعة

٩	٩	٩	٩	٩
٩	٩	٩	٩	٩

١٠

١٠

١٠

١٠

عشرة

١٠	١٠	١٠	١٠	١٠
١٠	١٠	١٠	١٠	١٠



للمعلم :
٢-١ يعد الطالب الأشياء داخل المربعات، وينطق العدد، ثم يمرر قلمه على العدد المنقط، ويكتبه مرتين في المربعين التاليين

٣




٩

٤



١٠

٥



١٠

٩



٩

للمعلم :

٦-٣ يُعدّ الطالب الحيوانات، وينطق العدد، ثم يستعمل قطع العد ليوضّح عددها. ثم يكتب الطالب العدد في المكان المخصص.

نشاط منزلي



أحضِر كتابًا صفحته مرقّمة. ثم اطلب إلى طفلك أن يُعدّ الصفحات التسع الأولى، ويكتب العدد ٩. ثم اجعله يعدّ الصفحات العشر الأولى، ويكتب العدد ١٠.

وزارة التعليم

الدرس ٤ : قراءة العددين ٩ ، ١٠ ، وكتابتهم

2022 - 1444



1

٦

٣

للمعلم:

- ١ - يعدُّ الطالب القمصان، ثم يلوّن مربعات تتناسب مع عدد القمصان.
- ٢ - يحوِّط الطالب المجموعة التي تحتوي على ٨ حبات من الفاكهة. ثم يضع علامة X على المجموعة التي لا تحوي ٨ حبات من الفاكهة.
- ٣ - يعدُّ الطالب الأشياء الموجودة في الصورة. ثم يكتب العدد في الفراغ.



مراجعة تراكمية الفصول ١-٤

١

النمط عبارة عن
كرتا قدم ثم كرة سلة
ويتكرر بانتظام



النمط عبارة عن مكعبين
بلون بنفسجي ثم مكعب
بلون أخضر ويتكرر
بانتظام

٢



٣



للمعلم:

- ١- يتعرف الطالب نمط المكعبات، ويصفها، ثم يحوط الكرات التي لها النمط نفسه، ويضع علامة X على الكرات التي ليس لها نمط المكعبات ثم يتحدث عن نمطها.
- ٢- يكتب الطالب عدد اللاعبين في الملعب.
- ٣- يحوط الطالب مجموعة الورود التي عددها ٥، ثم يضع علامة X على مجموعة الورود التي عددها ٤.





أحلّ المسألة

أرسم صورة

فكرة الدرس

أحلّ مسائل على
الأعداد من ٦ إلى
١٠ مستعملاً رسم
صورة.



٦



٩

١



٨

للمعلم :

٢-١ ينظر الطالب إلى الصورة، ثم يحدد مجموعة أشياء عددها يساوي العدد المكتوب، ثم يرسمها في المكان المخصص.



<p>٧</p>	<p>٣</p>
<p>٦</p>	<p>٩</p>

نشاط منزلي

اطلب إلى طفلك أن يبحث عن أشياء في المنزل عددها من ٦ إلى ١٠، ثم يرسم صورة بعددها.



للمعلم :

٦-٣ ينظر الطالب إلى الصورة، ثم يحدد مجموعة أشياء عددها يساوي العدد المكتوب، ثم يرسمها في المكان المخصص.



مُقارَنَةُ الأَعْدَادِ حَتَّى ١٠

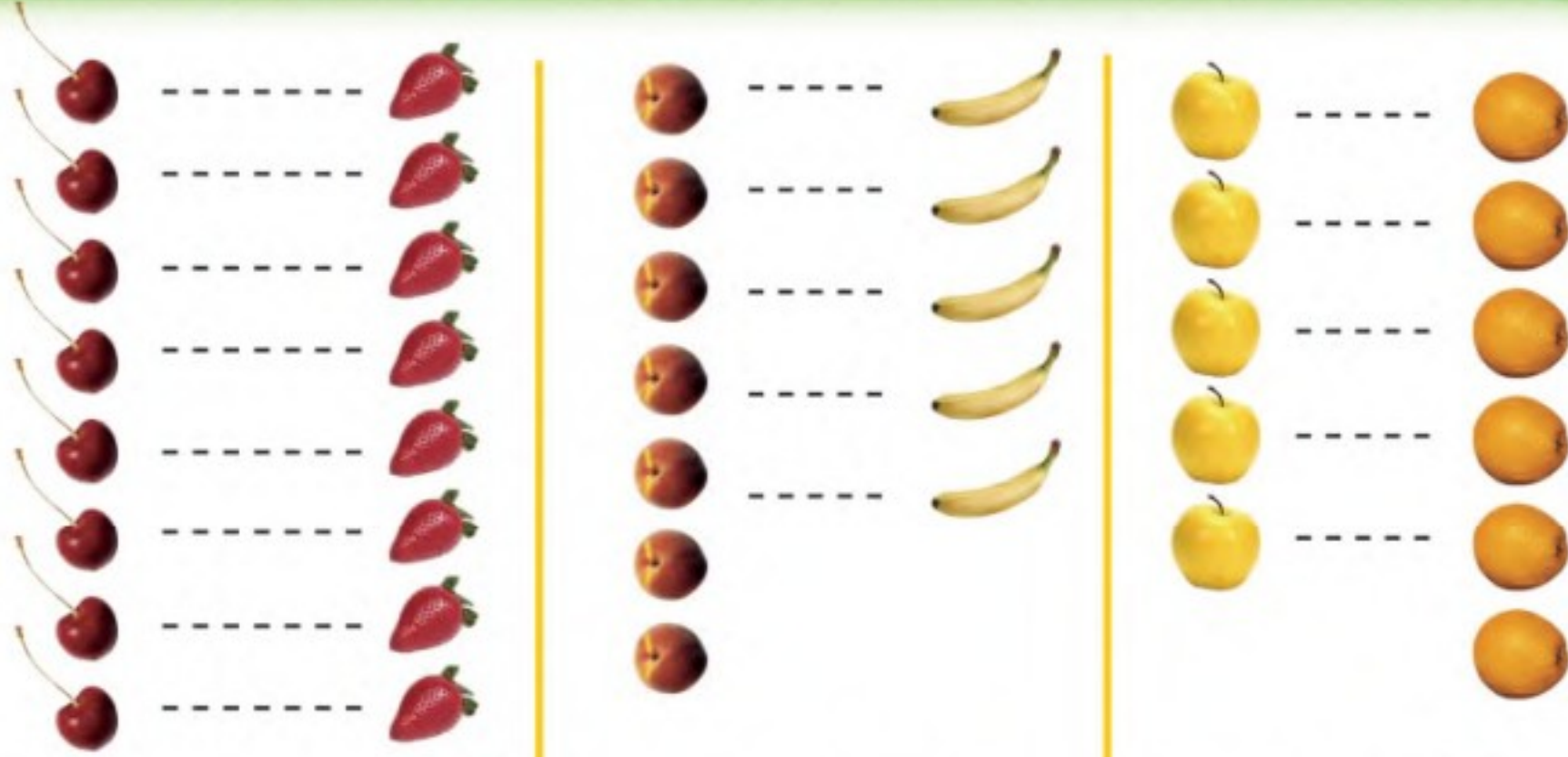
٦-٤



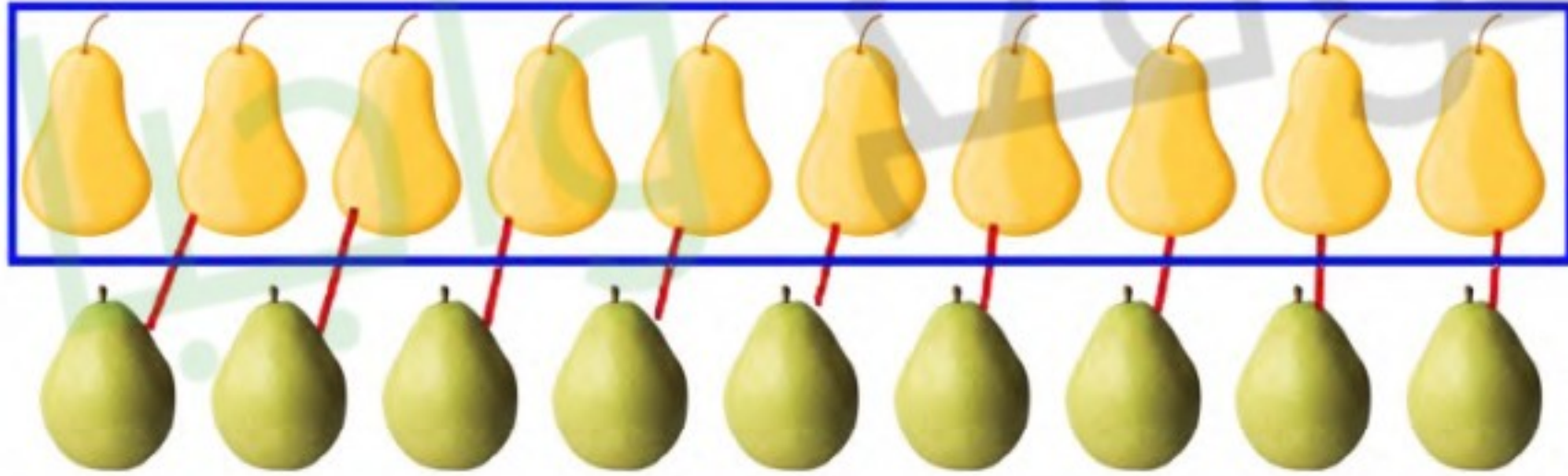
www.len.edu.sa

فِكْرَةُ الدَّرْسِ

أَسْتَعْمِلُ التَّقَابِلَ
وَالْعَدَدَ لِمُقَارَنَةِ
مَجْمُوعَتَيْنِ.



٨ يُسَاوِي ٨ ٧ أَقَلُّ مِنْ ٥ ٥ أَكْثَرُ مِنْ ٨



للمعلم :

٢-١ يُعَدُّ الطَّالِبُ الأَشْيَاءَ فِي كُلِّ مَجْمُوعَةٍ، وَيَكْتُبُ عَدْدَهَا. ثُمَّ يَصِلُ بِخَطُوطٍ بَيْنَ عُنَاوِرِ المَجْمُوعَتَيْنِ، ثُمَّ يَحِوِّطُ المَجْمُوعَةَ الأَكْثَرَ، وَالْعَدَدَ المَكْتُوبَ بِجَانِبِهَا.

- يَضَعُ الطَّالِبُ عِلَامَةَ X عَلَى المَجْمُوعَةِ الأَقْلَى، وَعَلَى العَدَدِ المَكْتُوبِ بِجَانِبِهَا.

- يَضَعُ الطَّالِبُ عِلَامَةَ ✓ عَلَى المَجْمُوعَاتِ الَّتِي لَهَا العَدَدُ نَفْسَهُ، وَعَلَى العَدَدِ المَكْتُوبِ بِجَانِبِهَا.



8 3

7 X

3 X

6

4 X

6

5

5

نشاط منزلي

كوّن مجموعتين مختلفتين تحوي كل منهما ١٠ أشياء أو أقل. ثم اطلب إلى طفلك أن يقارن بين المجموعتين ويخبرك أيهما أقل عددًا، وأيهما أكثر عددًا، أو هل هما متساويتان في العدد. اطلب إليه أن يكتب العدد في كل حالة.



للمعلم :

يعدّ الطالب الأشياء في كل مجموعة، ويكتب عددها. ثم يصل بخطوط بين عناصر المجموعتين:

- يحوط الطالب المجموعة الأكثر، والعدد المكتوب بجانبها.
- يضع الطالب علامة X على المجموعة الأقل، وعلى العدد المكتوب بجانبها.
- يضع الطالب علامة ✓ على المجموعات التي لها العدد نفسه، وعلى العدد المكتوب بجانبها.

ترتيب الأعداد حتى ١٠

٧-٤



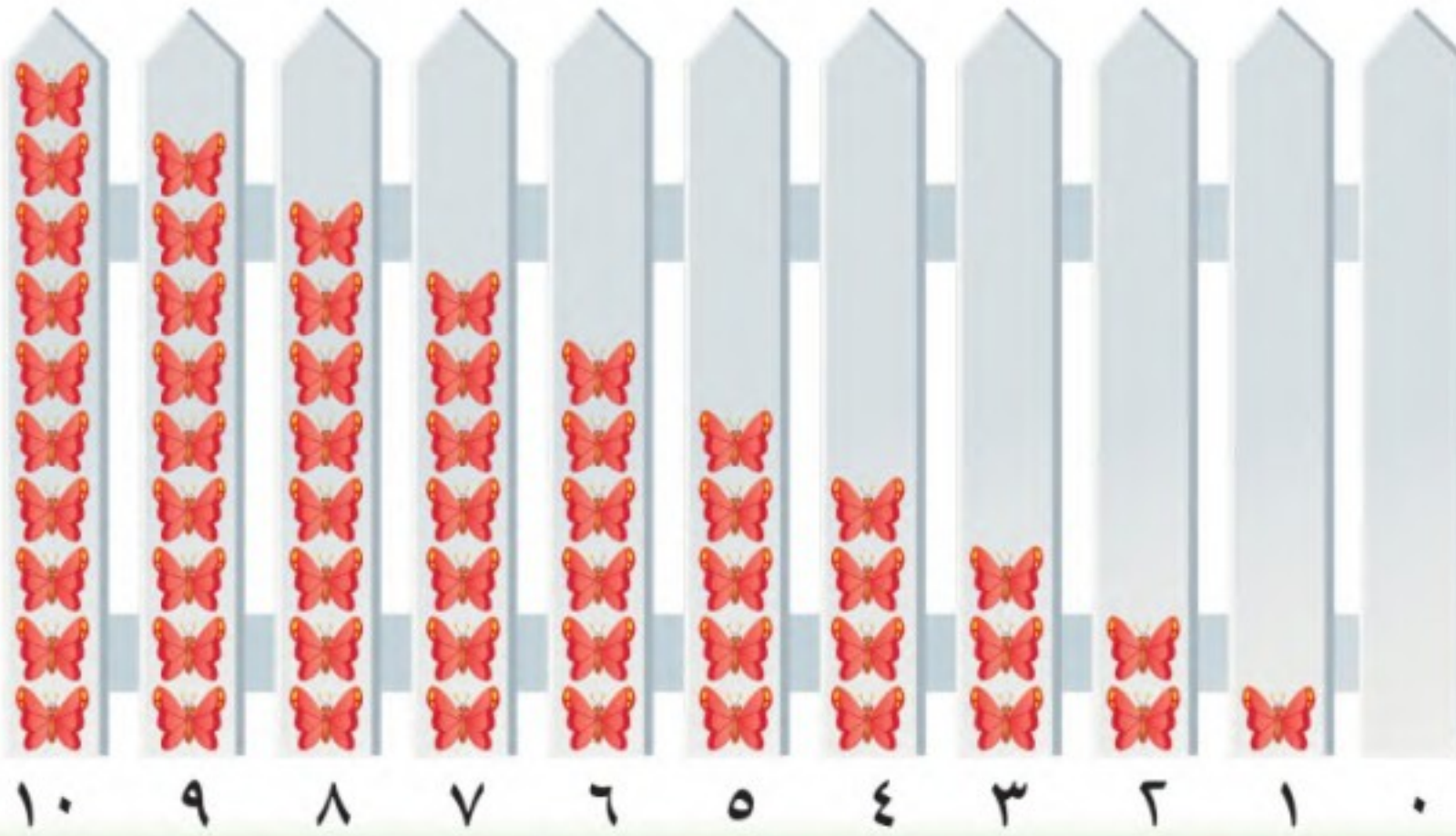
www.len.edu.sa

فكرة الدرس

أرتب الأعداد
من صفر إلى ١٠
باستعمال الرسوم
التوضيحية.



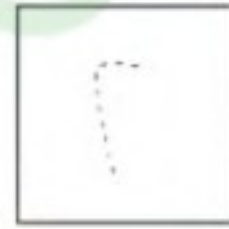
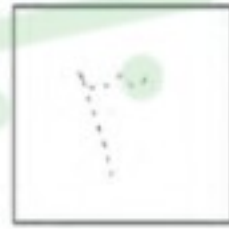
المفردات

الترتيب



العدد ٤ بعد الأعداد

٣، ٢، ١، ٠




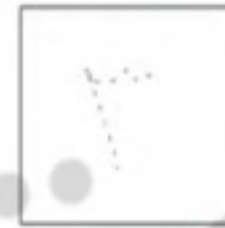




العدد ٩ بعد الأعداد ٨، ٧، ٦ وقبل العدد ١٠

للمعلم :



٢-١ يُعد الطالب الأشياء، ثم يمرر قلمه على الأعداد المنقطة، ويكتب العدد المفقود ويتحدث إلى زملائه عن موقعه (قبل بعد) الأعداد الأخرى في السطر نفسه.



للمعلم :

٤-٣ يُعدّ الطالب (البذور - الدوائر) ، ثم يمرّر قلمه على الأعداد المنقّطة ، ويكتب العدد المفقود.

٦-٥ يكتب الطالب العدد المفقود ، ثم يرسم (مربعات - بتلات) بمقدار هذا العدد.

نشاط منزلي

قصّ مربعات صغيرة، ثم اطلب إلى طفلك أن يرقمها بالأعداد من ١ إلى ١٠. ثم اخلطها واطلب إليه أن يعيد ترتيبها تصاعدياً. كرّر هذه العملية عدة مرات.



وزارة التعليم

الدرس ٧ : ترتيب الأعداد حتى ١٠
2022 - 1444




فِكْرَةُ الدَّرْسِ

أَسْتَعْمِلُ الأَعْدَادَ
التَّرْتِيبِيَّةَ لَوَصْفِ
مَوْقِعِ شَيْءٍ فِي صَفٍّ.

الْمُضْرَدَاتُ

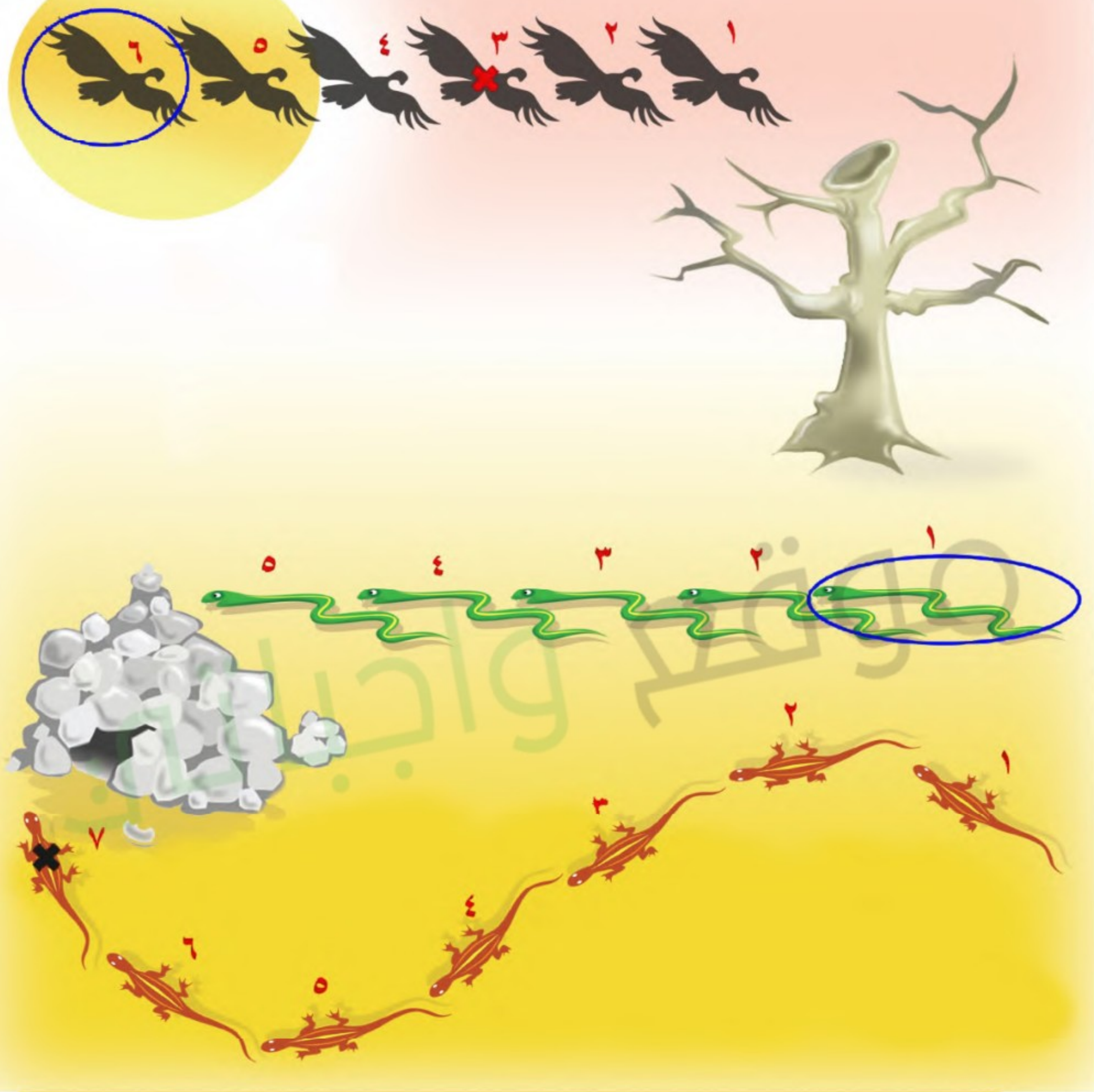
العَدَدُ التَّرْتِيبِيُّ



للمعلم :

- ١- يحوط الطالب الأرنب الأول، ويضع علامة X على الأرنب الثالث، وخطاً تحت الأرنب الخامس.
- ٢- يحوط الطالب البطة الثانية، ويضع علامة X على البطة الرابعة، وخطاً تحت البطة السابعة.





للمعلم :

- يذكر الطالب ترتيب كل نسر بدءًا من اليمين. ويحوظ النسر السادس، ويضع علامة X على النسر الثالث.
- يذكر الطالب ترتيب كل ثعبان بدءًا من اليمين، ويحوظ الثعبان الأول.
- يذكر الطالب ترتيب كل سحلية بدءًا من اليمين، ويضع علامة X على السحلية السابعة.

نشاط منزلي

رتّب لطفلك مجموعة من الألعاب في سطر واحد، بحيث تكون في الاتجاه نفسه، وتكون الواحدة خلف الأخرى، ثم اطلب إليه أن يحدّد اللعبة الأولى، ثم اللعبة السادسة، ثم العاشرة، ثم الرابعة.



وزارة التعليم

الدرس ٨ : العدد الترتيبي
2022 = 17444

أَلْعِبْ مَعَ الْقَارِبِ

الْعَدُّ

الْبِدَايَةُ

الْأَنْهَاءَةُ

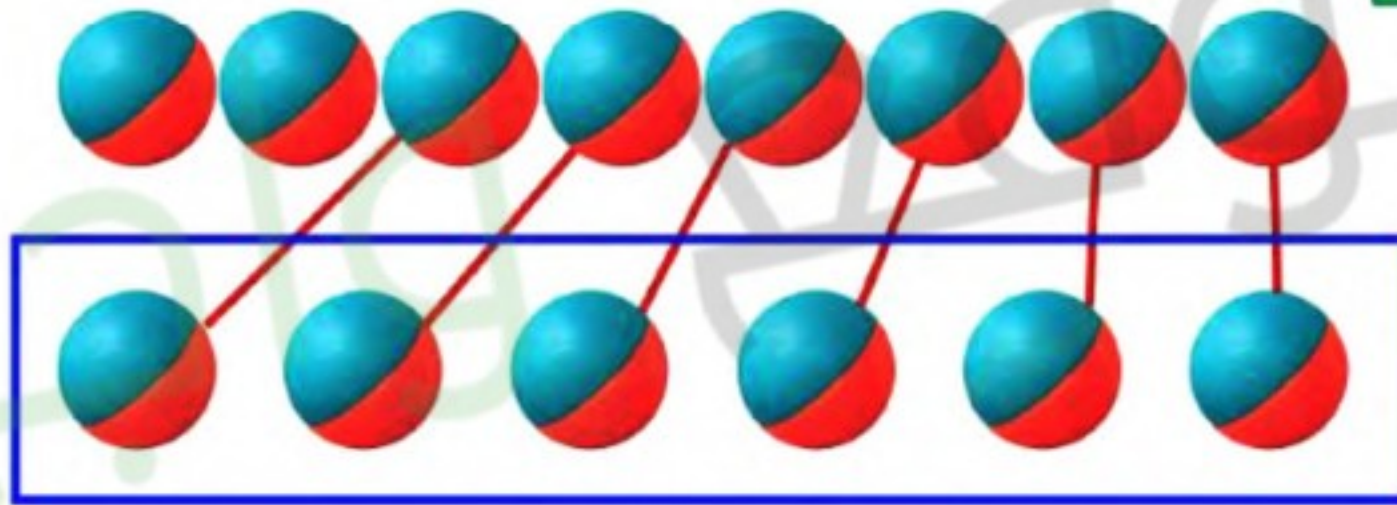


للمعلم :

- اذكر قواعد اللعبة للطلاب، ثم اطلب إليهم أن ينفذوا ما يلي:
- العب مع زميلك ، وتبادل الأدوار معه.
- ضع  عند نقطة البداية.
- ليختر أحدهما  ، ويستعمل الآخر .
- ألقِ .
- حرّك مكعبك عددًا من المربعات بمقدار العدد الظاهر على .
- إذا وصلت بمكعبك إلى قارب فإنك تحصل على .
- عندما يصل اللاعبان إلى نقطة النهاية، فإن اللاعب الذي لديه عدد أكبر من  يكون هو الفائز.

مَوَادُّ اللُّعْبَةِ





للمعلم :

- ٢-١ يعدّ الطالب الكرات ويكتب عددها.
- ٣- يعدّ الطالب الكرات في كل صفّ، ويكتب عددها، ثم يصل بخطوط بين الكرات في الصفين، ويحيط بالمجموعة الأقل عدداً والعدد المكتوب بجوارها.
- ٤- يعدّ الطالب الكرات في كل وعاء، ويكتب العدد المفقود، ثم يرسم الكرات التي تمثله.





٨

١



○

○

○

٣

٢

٤

١

٢

○

○

○



٣



○

○

○

٦

٤

١

٣

٤

○

○

○

للمعلم:

٤-١ اقرأ كل سؤال وامنح الطلاب الوقت الكافي لاختيار الإجابة الصحيحة.





٥

٨

٧

٦



٦



٧



٨



للمعلم:

٨-٥ اقرأ كل سؤال وامنح الطلاب الوقت الكافي لاختيار الإجابة الصحيحة.



موقع واجباتك

