

تم تحميل وعرض المادة من

موقع كتبي

المدرسية اونلاين



www.ktbby.com

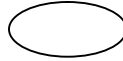
موقع كتبي يعرض لكم الكتب الدراسية الطبعة الجديدة
وحلولها، توزيع مناهج، تحضير، أوراق عمل، عروض
بوربوينت، نماذج إختبارات بشكل مباشر PDF

جميع الحقوق محفوظة للقائمين على العمل

اختبار الفترة الثالثة



لم يـ



أتقن

التعليم
لتعليم
بمنطقة الرياض بنين

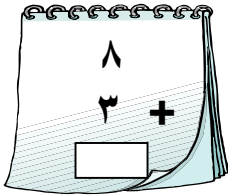
١- أكمل بالترتيب :

.....


.....

٢- أعد تصاعدياً لأ :

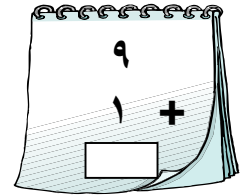
$$..... = 2 + 5$$



$$..... = 1 + 7$$



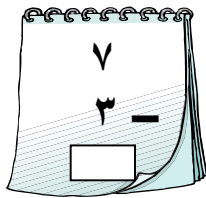
$$..... = 5 +$$



- أعد تنازلياً لأجد ناتج الطرح :

$$..... = 5 - 8$$

$$..... = 2 - 11$$



- أكتب الأعداد التالية :

$$..... =$$

$$..... =$$

مسائل لفظية على الجمع والطرح :

- مع هناء كرات ، فقدت منها ، كم كرة تبقى معها

- لبة ألوان ثمنها ريالاً ودفتر للتلوين ثمنه ريالاً ، ما جملة ما دفعته

معلمة المادة: نفايل العنزي

:



:

المهارة (2 27 28 25 19 23)

1:- حوطي الشكل الذي لا يشبه الشكل المعطى



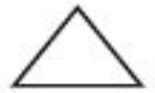
2:- لوني الشكل المستوي الذي يظهر على المجسم المجاور؟



3:-




.....
.....

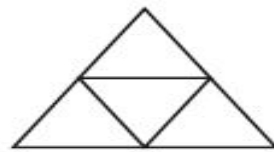


.....
.....


4:-




5:-



$\frac{1}{4}$ $\frac{1}{3}$ $\frac{1}{6}$



$\frac{1}{4}$ $\frac{1}{3}$ $\frac{1}{6}$



6:- أكتب الأعداد التالية :-

..... = 8 = 7
..... = 4 = 3

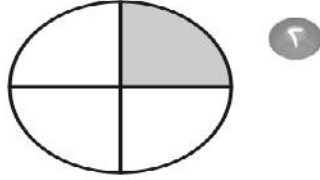
7:- :

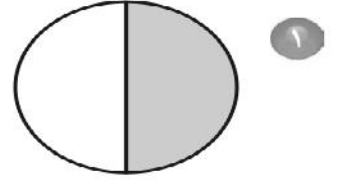
١ رَسَم عَلِيّ التَّمَطَّ التَّالِي:



ما الشَّكْلُ المَقْطُودُ؟

8:- :





9:- أكتب الأعداد بالترتيب

5 7 4

.....

10:- أكتب الأعداد التالية :

.....

.....

.....

انتهت الاسئلة

ثمانية واربعون