

تم تحميل وعرض المادة من

موقع كتبي

المدرسية اونلاين



www.ktbby.com

موقع كتبي يعرض لكم الكتب الدراسية الطبعة الجديدة
وحلولها، توزيع مناهج، تحضير، أوراق عمل، عروض
بوربوينت، نماذج إختبارات بشكل مباشر PDF

جميع الحقوق محفوظة للقائمين على العمل

المملكة العربية السعودية

وزارة التعليم

إدارة التعليم بمحافظ عسير

مدرسة: الكسائي الابتدائية

الدرجة : _____

توقيع ولي الأمر :




اختبار الفترة الأولى

الصف : الأول الابتدائي

المادة : رياضيات

اسم الطالب:

السؤال الأول: صل بين عناصر المجموعتين، ثم اكتب عدد عناصر كل مجموعة أمامها، وارسم دائرة حول المجموعة ذات العناصر الأكثر.



السؤال الثاني : اكتب عدد الأشكال التالية في المربعات المجاورة لها



السؤال الثالث: اكتب الأعداد مرتبة من ١ إلى ٥ في الجدول التالي:

--	--	--	--	--



الصف /

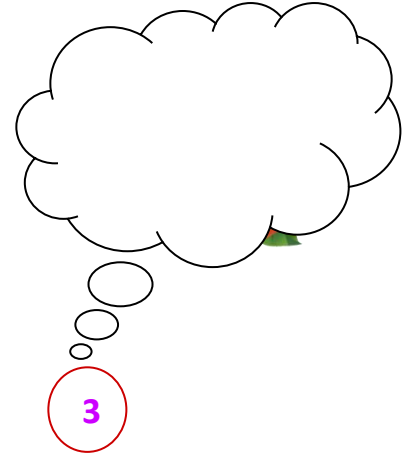


الاسم /-----

أسئلة اختبار مادة الرياضيات للصف الأول ابتدائي الفترة الثانية


السؤال الأول : أكتب ترتيب ما تحته خط



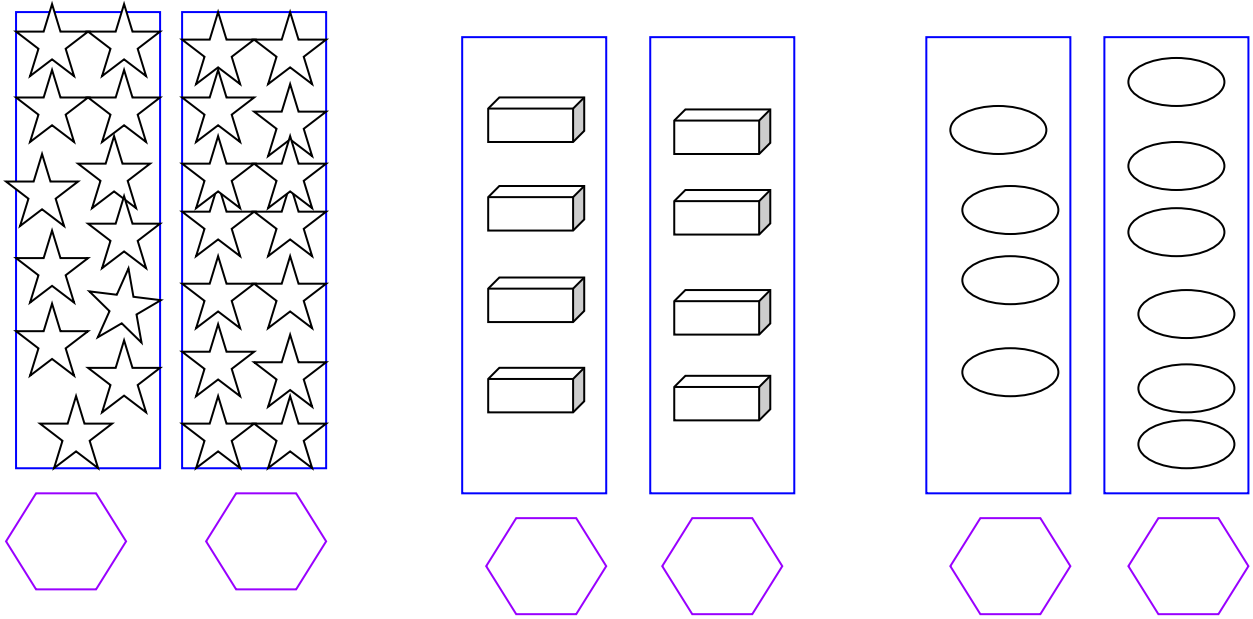
السؤال الثاني : أكتب العدد المفقود ، وأكمل رسم الناقص:



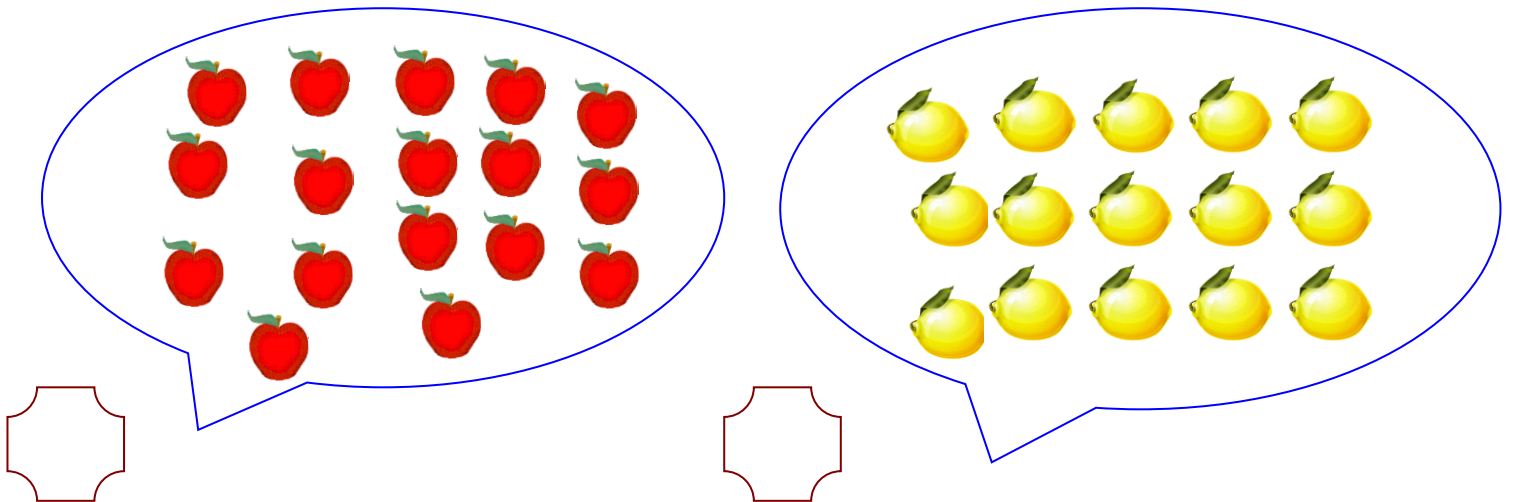
السؤال الثالث : أملئ الفراغات بالعدد الناقص:



السؤال الرابع : عد وأكتب العدد ، ثم أحصي المجموعة الأكثر ، وضع علامة x على المجموعة الأقل ، وعلامة ✓ على المجموعة التي لها نفس العدد



السؤال السادس : عد وأكتب العدد ، ثم ضع علامة x على المجموعة الأقل :



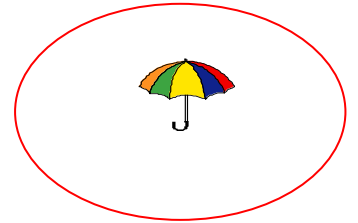
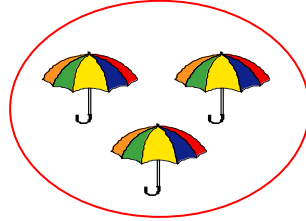


وزارة التعليم
Ministry of Education

المملكة العربية السعودية
وزارة التربية والتعليم
إدارة التربية والتعليم بمحافظة الطائف
مدرسة الخمسون الابتدائية


الصف /

الاسم /




=


+



+



+



اطرح ما يلي :