

تم تحميل وعرض المادة من

موقع كتبي

المدرسية اونلاين



[www.ktbby.org](http://www.ktbby.org)

موقع كتبي يعرض لكم الكتب الدراسية الطبعة الجديدة  
وحلولها، شرح للمناهج الدراسية، توزيع المناهج، أوراق  
عمل، نماذج اختبارات عرض مباشر وتحميل PDF

\*جميع الحقوق محفوظة للقائمين على العمل\*

قررت وزارة التعليم تدريس  
هذا الكتاب وطبعه على نفقتها



المملكة العربية السعودية

# التربية الفنية

الصف الأول الابتدائي

الفصل الدراسي الأول

قام بالتأليف والمراجعة

فريق من المتخصصين

يوزع مجاناً للائحة



الحل من إعداد موقع كتيبي المدرسية | جميع الحقوق محفوظة

ح) وزارة التعليم ، ١٤٤٤ هـ

فهرسة مكتبة الملك فهد الوطنية أثناء النشر

وزارة التعليم

التربية الفنية - الصف الأول الابتدائي - الفصل الدراسي الأول. /

وزارة التعليم - الرياض ، ١٤٤٤ هـ.

٦٠ ص ٢١٤ X ٢٥,٥ سم

ردمك : ٨ - ٤٠٢ - ٥١١ - ٦٠٣ - ٩٧٨

١- التربية الفنية - تعليم - السعودية ٢- التعليم الابتدائي -

السعودية - كتب دراسية أ. العنوان

١٤٤٤ / ٧٦٧٥

ديوي ٣٧٢,٥

رقم الايداع : ١٤٤٤ / ٧٦٧٥

ردمك : ٨ - ٤٠٢ - ٥١١ - ٦٠٣ - ٩٧٨

حقوق الطبع والنشر محفوظة لوزارة التعليم

[www.moe.gov.sa](http://www.moe.gov.sa)

مواد إثرائية وداعمة على "منصة عين الإثرائية"



[ien.edu.sa](http://ien.edu.sa)

أعزاءنا المعلمين و المعلمات، والطلاب و الطالبات، وأولياء الأمور ، وكل مهتم بالتربية و التعليم؛  
يسعدنا تواصلكم؛ لتطوير الكتاب المدرسي، ومقترحاتكم محل اهتمامنا.



[fb.ien.edu.sa](https://fb.ien.edu.sa)

بِسْمِ اللَّهِ الرَّحْمَنِ الرَّحِيمِ





## الوحدة الثانية مجال الزخرفة

### موضوعات الوحدة:

- ١- أزخرف بالمربع والمستطيل.
- ٢- الزخرفة بالدائرة والمثلث.



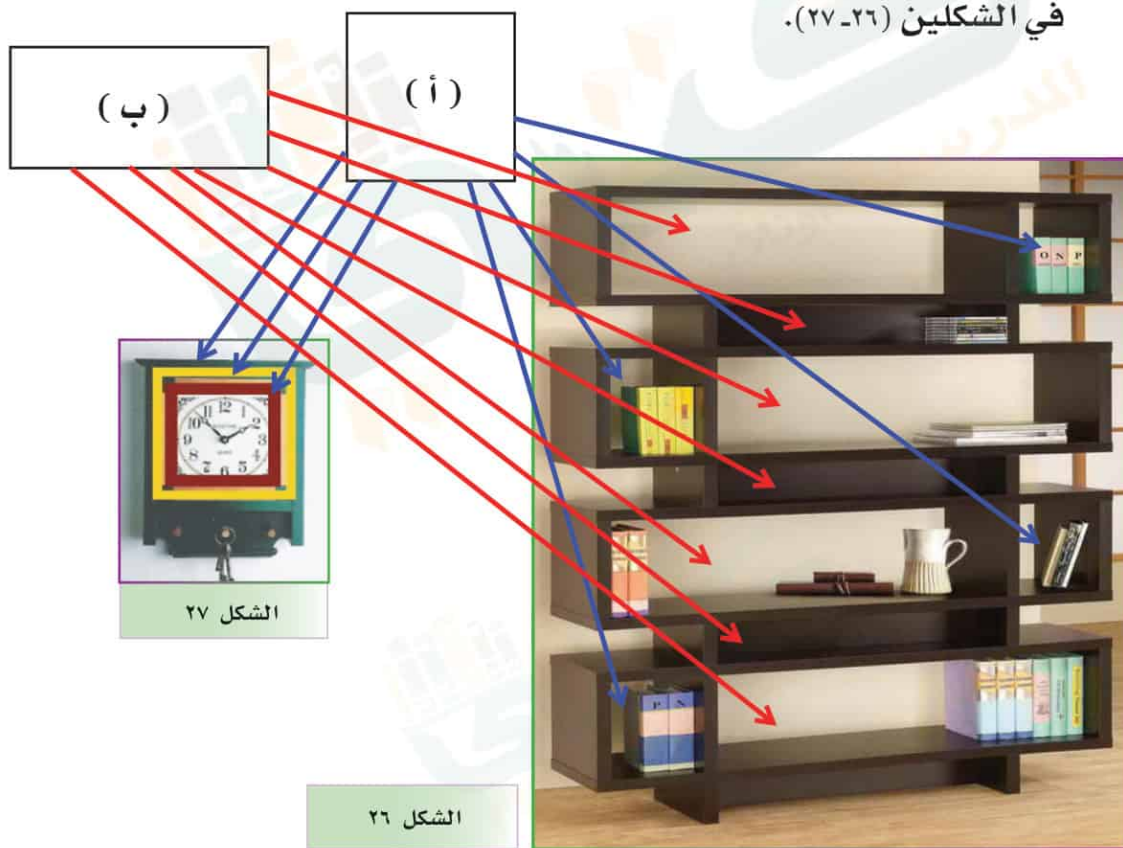
## أزخرف بالمربع والمستطيل

في حياتنا اليومية نرى أشكالاً هندسية متنوعة، وأمامنا بعض من هذه الأشكال هيا نسميها سوياً.

### نشاط




٤ أضلاع عد أضلاع الأشكال الهندسية (أ - ب)، وصل بخط إلى ما يماثلها من أشكال في الشكلين (٢٦-٢٧).



الشكل ٢٧

الشكل ٢٦







هيا ندرّب سوياً على رسم الشكل الهندسي المستطيل والمربع، الشكل (٢٨).




المربع




المستطيل

الشكل ٢٨

ما الفرق بين المربعات في الأشكال (٢٩-٣٠-٣١-٣٢) أن حجمها مختلف



الشكل ٣١



الشكل ٣٠



الشكل ٢٩



الشكل ٣٢

هل المستطيل في الشكل (٣٣) هو نفسه في الأشكال (٣٤-٣٥-٣٦)؟


جميع الأشكال مستطيلة  
ولكن أحجامها مختلفة




الشكل ٣٣



الشكل ٣٤



الشكل ٣٥



الشكل ٣٦





عندما نزيّن الأشكال بالمربعات والمستطيلات فإننا نزخرفها.  
زخرفنا الأشكال الهندسية المستطيل والمربع بالأشكال النباتية والهندسية والكتابية.  
**نعم** هل الزخارف أعطت الأشكال جمالاً؟ هيّا نذكر بأيّ الأشكال زخرفنا هذه الصناديق.

### بالأشكال النباتية



الشكل ٣٧

### بالأشكال النباتية



الشكل ٣٨



الشكل ٣٩


### بالأشكال الكتابية

هيا نتعلم كيف نقص الأشكال الهندسية: المستطيل والمربع، ونزخرفها.  
الأدوات والخامات التي نحتاجها نستطيع معرفتها من الشكل (٤٠).




الشكل ٤٠

خطوات التنفيذ:



نرسم الشكل الهندسي.



نقصُ الشكل الهندسي.



نلصق الشكل الهندسي.



نزخرف الشكل.

⚠ الحذر من استخدام المقص





## الزخرفة بالدائرة والمثلث



الشكل ٤١

خلق الله لنا كثيراً من النعم كالشمس والقمر والجبال، وإن إحدى هذه النعم الشمس، وقد خلقها الله دائرية جميلة، الشكل (٤١).

خلق الله الجبال القوية، وبعضها مثلث الشكل، الشكل (٤٢).

الشكل ٤٢






الشكل ٤٣

بيوت تراثية من  
الدرعية بنقوش  
مثلث ودائري (٤٣).

مسجد الملك عبدالله  
في المركز المالي في  
الرياض، الذي حصل  
على جائزة (waf) في  
قائمة المباني الدينية  
عام ٢٠١٧ (٤٤).



الشكل ٤٤

### نشاط (١)

هيا نذكر أشياء في حياتنا دائرية ومثلثة الشكل.

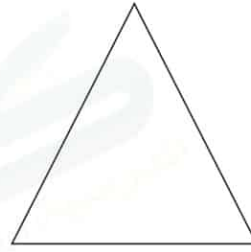
الدائرة مثل: الطبق ، القمر ، إطار السيارة ، كرة ، الشمس  
المثلث مثل : لوحات المرور الإرشادية ، قطع الجبن المثلث،  
شراع القارب مثلث .

٤١





الشكل ٤٦ - للدائرة محيط



الشكل ٤٥ - للمثلث ثلاثة أضلاع

نشاط (٢)



ما الزخارف التي نضدها الفنان الشعبي في الشكل (٤٧)؟



الشكل ٤٧ - زخرفَ الفنان الشعبي بالمثلث.




تدريب

استخدم الأشياء الدائرية لرسم  
الدائرة، الشكل (٤٨).

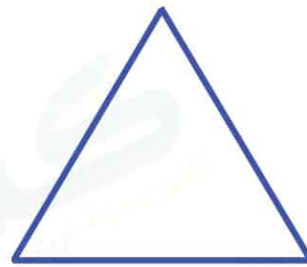


الشكل ٤٨

نرسم ونوصل النقاط في المثلث والدائرة، الشكل (٤٩-٥٠).



الشكل ٥٠



الشكل ٤٩

هيا نتعلم كيف نقص الأشكال الهندسية : المثلث والدائرة، ونزخرفها.



الشكل ٥١


### أدواتنا وخاماتنا:

هل نستطيع معرفتها من


الصورة؟ الشكل (٥١).

نعم : مقص ، ألوان ، منقلة ،  
مسطرة ، قلم رصاص ، مثلث ،  
فرجار ، أوراق بيضاء وملونة.


### خطوات التنفيذ:



نرسم الشكل الهندسي.



نقصُ الشكل الهندسي.



نلصق الشكل الهندسي.



نزخرف الشكل.


⚠ الحذر من استخدام المقص



تقويم الوحدة



صل/ي بين الصور وما يناسبها فيما يأتي:




لصق

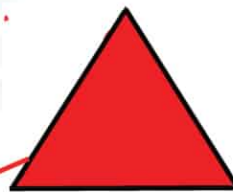


رسم

زخرفة

قص



لَوْن/ي الأشكال الآتية، ثم وِصَل/ي الشكل باسمه:



دائرة - مثلث - مربع

